
ЛЕКЦИЯ 11

СВЕРХПРОВОДНИКИ. КОЛЕБАНИЯ

Задача 7.64.

Шар радиусом R из сверхпроводника I рода внесён в постоянное однородное магнитное поле с индукцией B_0 . Определить магнитное поле B вне шара, если поле B_0 ещё не разрушает сверхпроводимость в шаре. Найти также поверхностную плотность сверхпроводящего тока i и магнитный момент \vec{M} . **Решение.**

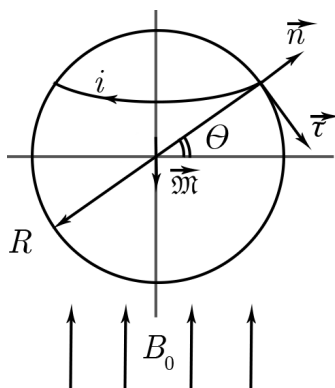


Рис. 11.1

Магнитное поле $B(r)$ есть векторная сумма внешнего поля и поля диполя:

$$\vec{B}(r) = \vec{B}_0 + \vec{B}_d,$$

причём $r \geq R$, так как внутри шара поля нет. Поле диполя рассчитывается по формуле

$$\vec{B}_d = \frac{3(\vec{M}, \vec{r})\vec{r}}{r^5} - \frac{\vec{M}}{r^3}.$$

Запишем граничное условие при $r = R$:

$$B_{\text{дн}} + B_{0\text{н}} = 0,$$

где n означает нормаль.

$$\begin{aligned}(\vec{M}, \vec{R}) &= MR \cos \theta; \\ B &= B_0 \cos \theta; \\ B_{\text{дн}} \Big|_{r=R} &= \frac{3 \cos \theta}{R^3} - \frac{M \cos \theta}{R^3} = \frac{2M \cos \theta}{R^3}; \\ B_{\text{дн}} + B_{\text{он}} \Big|_{r=R} &= 0 = \frac{2M \cos \theta}{R^3} + B_0 \cos \theta,\end{aligned}$$

выражая \vec{M} , находим:

$$\vec{M} = -\frac{\vec{B}_0 R^3}{2}.$$

Далее, подставляем найденные выражения в формулу для внешнего магнитного поля:

$$B(r) \Big|_{r \geq R} = \vec{B}_0 + \vec{B}_{\text{д}} = \vec{B}_0 \left(1 + \frac{R^3}{3r^3} \right) - \frac{3R^3 (\vec{B}_0, \vec{r}) \vec{r}}{2r^5}.$$

Как видно из формулы, поле не радиально, а тангенциально, так как последний член равен нулю. Учитывая, что поле внутри шара равно нулю, и $Mu = 1$, из граничного условия найдём поле в каждой точке:

$$B_t(R) = \frac{4\pi}{c} i(\theta).$$

Из формулы для внешнего магнитного поля найдём тангенциальную составляющую:

$$B_t(R) = \frac{3}{2} B_0 \sin \theta = \frac{4\pi}{c} i(\theta),$$

$$i(\theta) = \frac{3c}{8\pi} B_0 \sin \theta.$$

Задача 9.8.

Последовательно соединённые дроссель L и омическое сопротивление присоединены к источнику постоянного тока с ЭДС \mathcal{E} . Полное омическое сопротивление цепи равно R . Индуктивность дросселя, когда в него вставлен железный сердечник, равна L_1 . Индуктивность же того дросселя без железного сердечника L_2 . Вначале сердечник был вставлен. В момент времени $t = 0$, когда ток в цепи уже установился, очень быстро вынимают железный сердечник (в течение времени, пренебрежимо малого по сравнению с временем установления тока). Определить силу тока J в цепи в зависимости от времени t для $t > 0$.

Решение.

Скачкообразное изменение индуктивности привело к скачкообразному изменению тока. По закону сохранения магнитного потока:

$$\frac{1}{c} L_1 \frac{\mathcal{E}}{R} = \frac{1}{c} L_2 J_0,$$

! Конспект не проходил проф. редактуру, создан студентами и, возможно, содержит смысловые ошибки. Следите за обновлениями на lectoriy.mipt.ru.

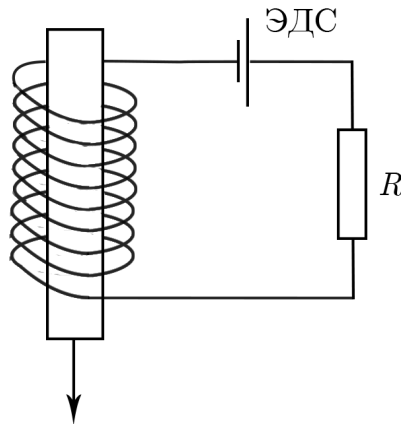


Рис. 11.2

$$J_0 = \frac{L_1 \text{Mathcal}E}{L_2 R}.$$

По второму закону Кирхгофа:

$$\text{Mathcal}E - L_2 \frac{dJ}{dt} = JR,$$

где член $L_2 \frac{dJ}{dt}$ есть ЭДС самоиндукции, которая препятствует изменению тока. Решим получившееся дифференциальное уравнение, учитывая начальное условие:

$$\frac{L_2 dJ}{\text{Mathcal}E - JR} = dt \rightarrow J(t) = \frac{\text{Mathcal}E}{R} \left(1 - \frac{L_2 - L_1}{L_2} e^{(-\frac{t}{\tau})} \right),$$

где $\tau = \frac{L_2}{R}$ — постоянная времени цепи.

Задача 9.44 (упрощённая).

Генератор с весьма малым внутренним сопротивлением посылает в контур прямоугольный импульс напряжения. Пренебрегая затуханием, найти, при какой длительности импульса T в контуре отсутствуют колебания после прекращения импульса. Нарисовать графики тока и напряжения, начиная с момента t_0 .

Решение.

Напряжение на конденсаторе:

$$V_C = V_0 + A \cos(\omega t + \phi);$$

A и ϕ найдём из начальных условий:

$$t = 0, V_C = 0, J = 0 = \frac{dq}{dt} = C\dot{V};$$

$$0 = V_0 + A \cos \phi;$$

$$0 = C \cdot A \omega \sin(\omega t + \phi) \rightarrow \phi = 0 : A = -V_0;$$

$$V_C(t) = V_0(1 - \cos \omega t) \rightarrow J(t) = CV_0 \omega \sin \omega t,$$

$$\omega T = 2\pi n \rightarrow T = \frac{2\pi n}{\omega} = 2\pi n \sqrt{LC}.$$

! Для подготовки к экзаменам пользуйтесь учебной литературой. Об обнаруженных неточностях и замечаниях просьба писать на pulsar@phystech.edu



Конспект не проходил проф. редактуру, создан студентами и, возможно, содержит смысловые ошибки. Следите за обновлениями на lectoriy.mipt.ru.

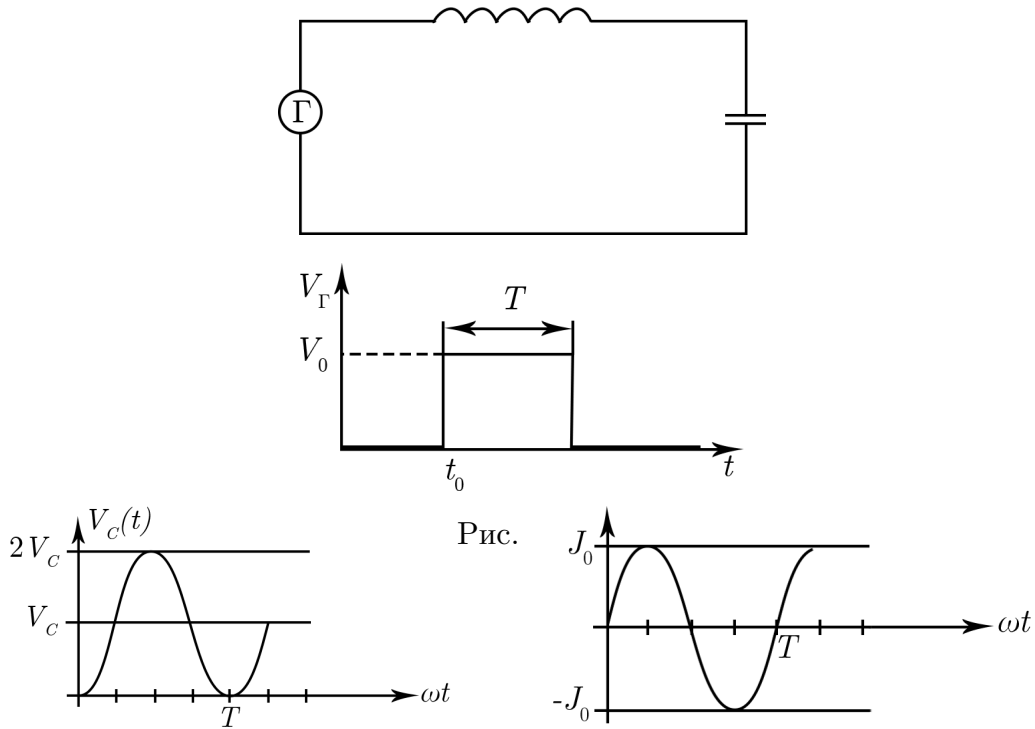


Рис. 11.4

Задача 9.15.

Цепь, состоящая из последовательно соединённых сопротивления R и большой индуктивности L , присоединена к источнику постоянного тока, поддерживающего на зажимах постоянное напряжение V_0 . Для ограничения перенапряжений во время отключения источника параллельно с цепью включён конденсатор ёмкостью C . Определить напряжение на конденсаторе $V(t)$ после отключения источника постоянного напряжения. Параметры контура удовлетворяют условию $4L > CR^2$.

Решение.

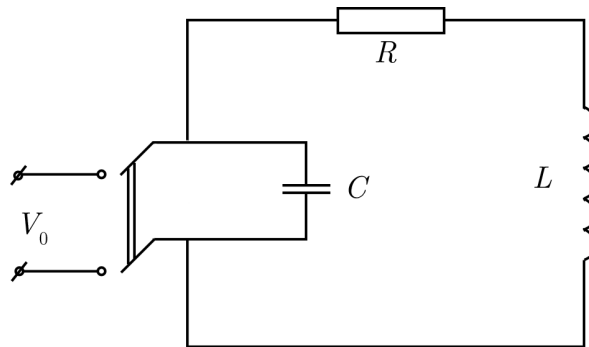


Рис. 11.5

Запишем закон Кирхгофа:

$$-L \frac{dJ}{dt} = V_C + JR = \frac{q}{c} + \dot{q}R,$$



Для подготовки к экзаменам пользуйтесь учебной литературой. Об обнаруженных неточностях и замечаниях просьба писать на pulsar@phystech.edu

! Конспект не проходил проф. редактуру, создан студентами и, возможно, содержит смысловые ошибки. Следите за обновлениями на lectoriy.mipt.ru.

$$L\ddot{q} + R\dot{q} + \frac{q}{C} = 0 \rightarrow \ddot{q} + 2\frac{R}{2L}\dot{q} + \frac{1}{LC}q = 0,$$

где $\frac{R}{2L} = \delta$ — коэффициент затухания, а $\frac{1}{LC} = \omega_0^2$ — собственная частота колебаний идеального контура. Предыдущее уравнение будет иметь стандартный вид:

$$\ddot{q} + 2\delta\dot{q} + \omega_0^2 q = 0,$$

для токов:

$$\ddot{J} + 2\delta\dot{J} + \omega_0^2 J = 0.$$

Несмотря на то, что одно уравнение вытекает из другого, решения будут разными, так как разные начальные условия:

$$q(0) = V_0 C,$$

$$\dot{q}(0) = -\frac{V_0}{R},$$

знак «минус» означает, что ток на конденсаторе будет убывать. Запишем характеристическое уравнение:

$$p^2 + 2\delta p + \omega_0^2 = 0,$$

$$p_{1,2} = -\delta \pm \sqrt{\delta^2 - \omega_0^2},$$

$$\delta^2 - \omega_0^2 = \frac{R^2}{4L^2} - \frac{1}{LC} = \frac{1}{4L^2 C} (R^2 C - 4L),$$

так как $4L > CR^2$ по условию, то $\delta^2 - \omega_0^2 < 0$, значит, решение колебательное:

$$p_{1,2} = -\delta \pm i\sqrt{\delta^2 - \omega_0^2} = -\delta \pm i\omega,$$

где $\sqrt{\delta^2 - \omega_0^2} = \omega$ — смещённая частота.

$$q(t) = e^{\delta t} (A \sin \omega t + B \cos \omega t),$$

где A и B являются неопределёнными коэффициентами, определяемые через начальные условия. Ответ:

$$V_C(t) = \frac{q(t)}{C} = V_0 e^{-\delta t} \left[\cos t + \left(\frac{\delta}{\omega} - \frac{1}{RC\omega} \right) \sin \omega t \right].$$

Задача 9.30.

После размыкания ключа в контуре возникают медленно затухающие колебания, максимальная амплитуда напряжения которых в $n = 100$ раз превосходит напряжение батареи. Найти собственную частоту контура ω_0 , если уменьшение амплитуды колебаний в e раз происходит за время $\tau = 0,1$ с.

Решение.

! Для подготовки к экзаменам пользуйтесь учебной литературой. Об обнаруженных неточностях и замечаниях просьба писать на pulsar@phystech.edu



Конспект не проходил проф. редактуру, создан студентами и, возможно, содержит смысловые ошибки. Следите за обновлениями на lectoriy.mipt.ru.

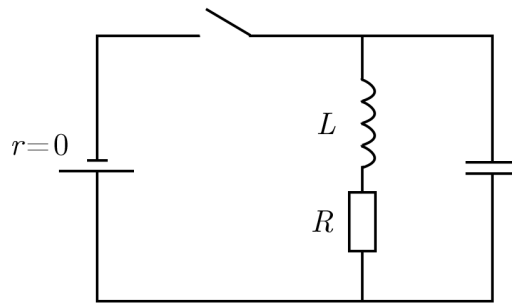


Рис. 11.6

Начальный ток через катушку:

$$J_L = \frac{E}{R}.$$

Поскольку затухание мало, то можно считать, что в пределах одного периода энергия сохраняется:

$$\frac{LJ_L^2}{2} = \frac{CV_0^2}{2} \rightarrow \frac{E^2}{R^2} L = CV_0^2,$$

$$\frac{V_0}{E} = n = \sqrt{\frac{L}{R^2 C}} = \frac{1}{R} \sqrt{\frac{L}{C}} = Q = 100.$$

Так как $\delta = \frac{1}{\tau}$, а $Q = \frac{\omega_0}{2\delta}$, найдём собственную частоту ω_0 :

$$Q = \frac{\omega_0 \tau}{2} \rightarrow \omega_0 = \frac{2Q}{\tau} = \frac{2n}{\tau} = \frac{200}{0,1} = 2000 \frac{\text{рад}}{\text{с}},$$

$$f = \frac{2000}{2\pi} \approx 320 \text{ Гц}.$$

Задача 9.53.

Резонансный контур $L - R - C$ раскачивается периодически последовательными импульсами, такими, что каждый отдельный импульс создает на конденсаторе дополнительное напряжение V . Промежутки времени между двумя последовательными импульсами в целое число n раз больше периода собственных колебаний. Определить амплитуду V_0 установившихся колебаний, считая декремент затухания контура малым.

Решение.

Запишем напряжение, учитывая затухание и подкачку:

$$V_0 = V_0 e^{-\delta n T} + V,$$

первый член есть «старое» колебание, которое за время nT потеряло часть энергии, а V — дополнительное напряжение.

$$Q = \frac{\pi}{\delta T} \rightarrow \delta T = \frac{\pi}{Q}.$$



Для подготовки к экзаменам пользуйтесь учебной литературой. Об обнаруженных неточностях и замечаниях просьба писать на pulsar@phystech.edu

7

!

Конспект не проходил проф. редактуру, создан студентами и, возможно, содержит смысловые ошибки. Следите за обновлениями на lectoriy.mipt.ru.

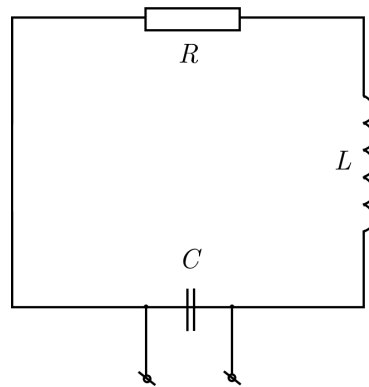


Рис. 11.7

Подставляя это соотношение в уравнение для напряжения и раскладывая экспоненту в ряд Тейлора, найдём ответ:

$$V_0 = \frac{V}{1 - e^{-\delta n T}} \approx \frac{V}{\delta n T} = \frac{VQ}{n\pi} = \frac{V}{n\pi R} \sqrt{\frac{L}{C}}.$$

!

Для подготовки к экзаменам пользуйтесь учебной литературой. Об обнаруженных неточностях и замечаниях просьба писать на pulsar@phystech.edu

Пример.

Как изменится добротность $R - C - L$ контура, при условии, что $R \ll \sqrt{\frac{L}{C}}$, при замыкании накоротко сверхпроводящей катушки L , если коэффициент взаимной индукции $M = \frac{4}{5}L$? Как изменится добротность контура, если после замыкания ключа K , изменением ёмкости настроить контур на прежнюю частоту?

Решение.

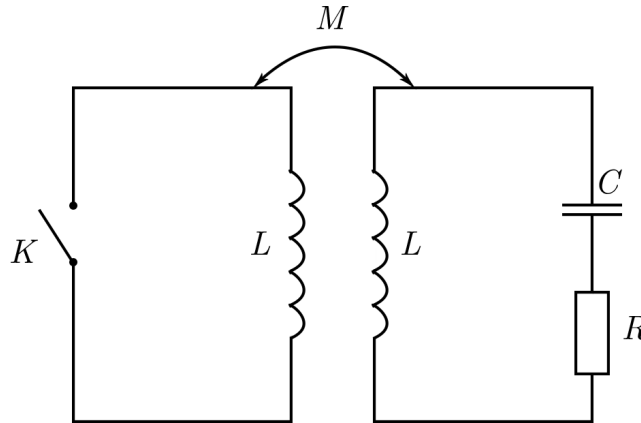


Рис. 11.8

При разомкнутом ключе:

$$Q_0 = \frac{\omega_0}{2\delta} = \frac{1}{R} \sqrt{\frac{L}{C}}.$$

При замыкании в контуре справа возникают колебания:

$$L\ddot{q} + R\dot{q} + \frac{q}{C} + M\ddot{q}' = 0,$$

последний член описывает ЭДС индукции, которая возникает благодаря коэффициенту взаимной индукции. Для левого контура:

$$L\ddot{q}' + M\ddot{q} = 0 \rightarrow \ddot{q}' = -\frac{M}{L}\ddot{q}.$$

Подставляя в уравнение для правого контура получаем уравнение колебаний:

$$\left(L - \frac{M^2}{L}\right)\ddot{q} + R\dot{q} + \frac{q}{C} = 0,$$

$$\ddot{q} + 2\frac{R}{2\left(L - \frac{M^2}{L}\right)}\dot{q} + \frac{q}{\left(L - \frac{M^2}{L}\right)C} = 0.$$

Учитывая, что $\frac{R}{2\left(L - \frac{M^2}{L}\right)} = \delta$, а $\frac{1}{\left(L - \frac{M^2}{L}\right)C} = \omega_1^2$, найдём ответ на первый вопрос:

$$Q_1 = \frac{\omega_1}{2\delta_1} = \frac{L - \frac{M^2}{L}}{\sqrt{\left(L - \frac{M^2}{L}\right)CR}} = \frac{1}{R} \sqrt{\frac{L - \frac{M^2}{L}}{C}} \rightarrow \frac{Q_1}{Q_0} = \sqrt{1 - \frac{M^2}{L^2}} = \frac{3}{5}.$$

! Конспект не проходил проф. редактуру, создан студентами и, возможно, содержит смысловые ошибки.
Следите за обновлениями на lectoriy.mipt.ru.

Ответ на второй вопрос:

$$Q_2 = \frac{\omega_0}{2\delta},$$
$$\frac{Q_2}{Q_0} = \frac{\delta_0}{\delta_1} = \frac{L - \frac{M^2}{L}}{L} = 1 - \frac{M^2}{L^2} = 1 - \left(\frac{4}{5}\right)^2 = \frac{9}{25}.$$

! Для подготовки к экзаменам пользуйтесь учебной литературой.
Об обнаруженных неточностях и замечаниях просьба писать на pulsar@phystech.edu